

ROTEIRO DE ATIVIDADES COMPLEMENTARES DE ESTUDO – COVID 19

1º ROTEIRO

ALUNO (A): _____

ESCOLA MUNICIPAL PARIGOT DE SOUZA

PROFESSOR: CELIA VERRI E SUELI DUTRA

TURMA: SRM – GRUPO 3

COMPONENTES CURRICULARES: LÍNGUA PORTUGUESA E MATEMÁTICA

PERÍODO DE REALIZAÇÃO: 06/07/2020 A 10/07/2020

OLÁ QUERIDOS ALUNOS! MAIS UMA SEMANA DE ATIVIDADES SE INICIA. SE PRECISAREM DE AJUDA ESTOU A DISPOSIÇÃO PELO WHATSAPP.	
O QUE VOCÊ VAI ESTUDAR?	LÍNGUA PORTUGUESA: LEITURA E INTERPRETAÇÃO DE TIRINHAS, ANÁLISE DE IMAGENS E PRODUÇÃO ESCRITA, FRASES. MATEMÁTICA: RESOLVER SITUAÇÕES PROBLEMA E REALIZAR OPERAÇÕES DE MULTIPLICAÇÃO.
PARA QUE VAMOS ESTUDAR ESSES CONTEÚDOS?	<ul style="list-style-type: none">• DESENVOLVER A LEITURA.• ESTIMULAR A OBSERVAÇÃO E ATENÇÃO.• EXERCITAR A ESCRITA.• DESENVOLVER O RACIOCÍNIO.• DESCOBRIR ESTRATÉGIAS PARA RESOLVER SITUAÇÕES PROBLEMA.• APERFEIÇOAR A COORDENAÇÃO MOTORA FINA E RESOLVER MULTIPLICAÇÕES.
COMO VAMOS REGISTRAR O QUE APRENDEMOS?	<ul style="list-style-type: none">• QUEM ESTÁ FAZENDO EM FOLHA IMPRESSA NÃO PRECISA FAZER NO CADERNO TAMBÉM. SOMENTE NA FOLHA.
COMO VAMOS ESTUDAR OS CONTEÚDOS?	<ul style="list-style-type: none">• ORGANIZE SEUS ESTUDOS!• PRESTE ATENÇÃO NOS COMANDOS AO LADO DE CADA ATIVIDADE, QUE ESTARÁ INDICANDO COMO VOCÊ DEVERÁ FAZER NO CADERNO COM CADA ATIVIDADE.

➤ **TERÇA-FEIRA - 07/07/2020**

LÍNGUA PORTUGUESA

OBSERVE AS
IMAGENS E LEIA
COM ATENÇÃO.

Leia a tirinha e responda.



Copyright © 2000 Mauricio de Sousa Produções Ltda. Todos os direitos reservados.

5882

Cebolinha soube que Magali estava brincando com Cascão por que:

- Ela contou para ele.
- Ele viu as marcas das mãos sujas do cascão.
- Cebolinha estava vendo escondido.
- Cascão correu e contou para Cebolinha.

Leia a tirinha e responda a questão abaixo.




Copyright © 2002 Mauricio de Sousa Produções Ltda. Todos os direitos reservados.

7405

Podemos perceber lendo na tirinha acima que:


- Magali adora comer borboleta.
- Magali achou a mão do Cebolinha doce.
- Magali só pensa em comida.
- Cebolinha deu um soco na Magali.



➤ **QUARTA-FEIRA - 08/07/2020**

LÍNGUA PORTUGUESA

OBSERVE A TIRINHA E ESCREVA UMA FRASE PARA CADA QUADRINHO.



**CAPRICHE NAS
FRASES!**

➤ **QUINTA-FEIRA - 09/07/2020**

MATEMÁTICA

VOCÊ PODE
FAZER AS
CONTAS NESSE
ESPAÇO.

LEIA E RESOLVA COM ATENÇÃO.

A) Num trem de ferro viajam 252 passageiros em pé e 180 sentados. Quantos passageiros há no trem?



B) Para uma festa, foram compradas 5 dúzias de rosas, 2 dezenas de hortênsias e 1 dezena de palmas. Quantas flores enfeitaram a festa?

C) Chiquinho coleciona carrinhos. Ele possui 5 dezenas de carros vermelhos, 70 amarelos, 30 azuis e 35 verdes. Quantos carrinhos Chiquinho possui em sua coleção?



D) Uma indústria tem 3 027 funcionários, que trabalham durante o dia, e 1 203 funcionários, que trabalham à noite. Quantos funcionários tem essa fábrica?

E) Uma farmácia vendeu 152 caixas de remédio na segunda-feira, 96 caixas de remédio na terça-feira. Quantas caixas de remédio foram vendidas nos dois dias?

➤ **SEXTA-FEIRA - 10/07/2020**

MATEMÁTICA

RESOLVA, RECORTE E COLE CADA MULTIPLICAÇÃO AO SEU RESULTADO CORRESPONDENTE.

PINTE, RECORTE E
COLE CADA
SORVETE AO SEU
RESULTADO
CORRESPONDENTE.

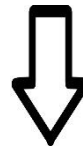
**OBS: ESSA
IMAGEM NÃO
É PARA SER
RECORTADA.
USE A IMAGEM
DO ANEXO.**


www.imagemparmatros.com



**SECRETARIA MUNICIPAL DE EDUCAÇÃO
ATIVIDADES COMPLEMENTARES DE ESTUDO – COVID 19**

COLE OS SORVETES QUE VOCÊ RECORTOU AQUI.





ANEXO

www.materiaisparamaestros.com

	7x1				
6x5	7x9	6x4			
7x8	6x8	7x3			
6x1	7x10	7x7			
7x2	7x4	6x9			
6x10	6x2	6x6			
6x3	7x5	7x6			
	6x7				

	7		14
21		28	
	35		42
49		56	
	63		70
6		12	
	18		24
30		36	
	42		48
54		60	